




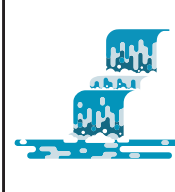




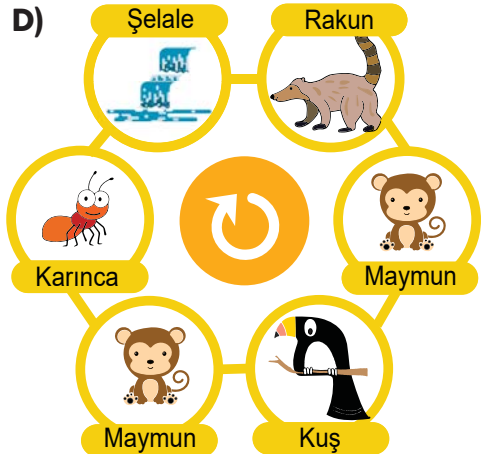
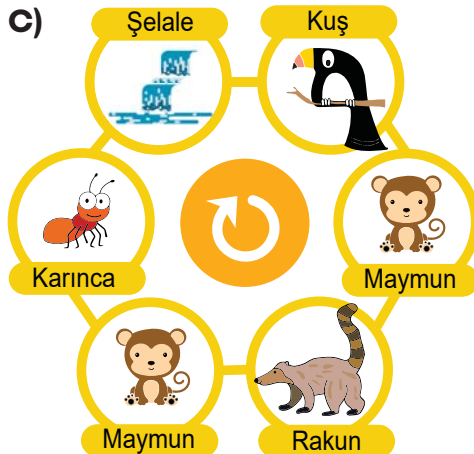

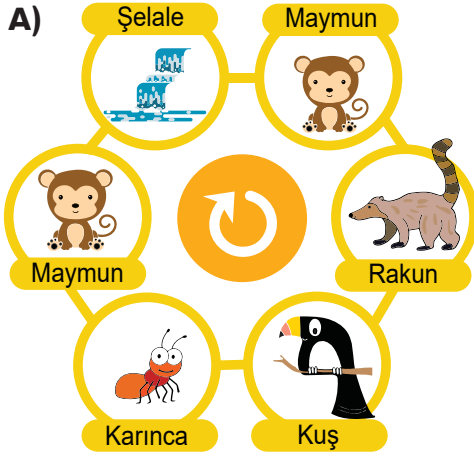
- Sınavda 15 soru bulunur.
- İlk 5 beş soru 6 puan, sonraki beş soru 9 puan, son beş soru 12 puan
- Sınav süresi 60 dakikadır.
- Yanlış sorular ilk beş soruda -2, sonraki beş soruda -3, son beş soruda -4 puandır.

1. Orman Ziyareti

Meltem ve babası yaz tatilinde ormana gittiler. Babası Meltem'e ormandaki şelaleyi göstermek istedi. Tur sırasında, sırasıyla aşağıdaki hayvanlarla karşılaştılar ve sonunda şelaleye ulaştılar.

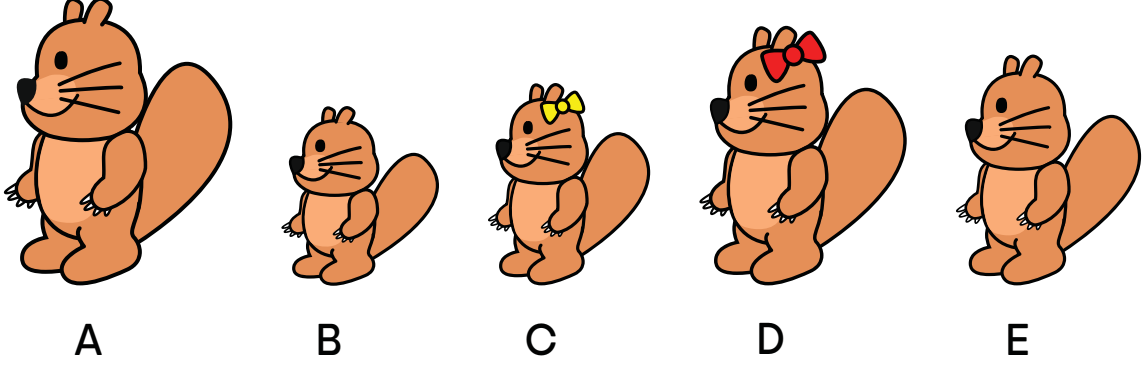
					
Kuş	Maymun	Rakun	Maymun	Karınca	Şelale

Görsellerin ortasındaki ok, saat yönünü temsil etmektedir. Buna göre aşağıdaki görsellerden hangisi Meltem'in şelaleye yolculuğu sırasında gördüğü hayvanların sırasıdır?



2. Orta Boylu Çocuk

Bir ailenin farklı boylarda beş çocuğu vardır. En uzun iki çocuk ve en kısa iki çocuk odadan ayrılıyor.

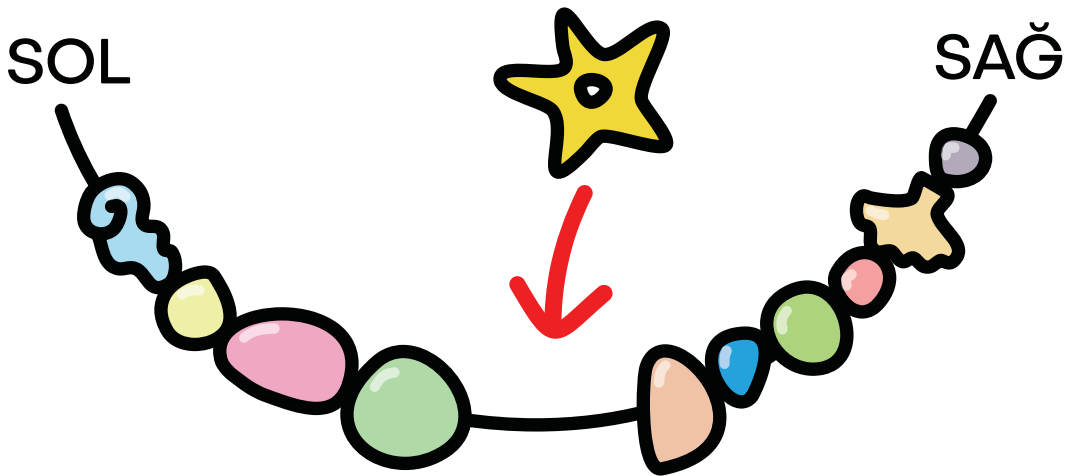


Odada kalan çocuk hangisidir?

- A) Çocuk B B) Çocuk C C) Çocuk D D) Çocuk E

3. Kolye Yapımı

Kunduz Leyla boncuklu kolye yapmayı çok sever. Leyla, kolye yapımında kopmayacak türde ip kullanır. Leyla, kolyeyi soldan ve sağdan boncuk ekleyerek veya çıkararak oluşturur.



Leyla, okun gösterdiği yere yıldız şeklinde bir boncuk yerleştirmek istiyor. Leyla, yıldızı yerleştirmek için ipten en az kaç tane boncuk çıkarmalıdır?



- A) 3 boncuk B) 4 boncuk C) 5 boncuk D) 6 boncuk

4. Gömleklere Düzenlemek

Pelin'in yatağında altı adet üst üste duran gömlek vardır. Pelin, her seferinde bir gömlek almakta ve gömleklere en üst çekmeceye en alt çekmeyeceye kadar birer birer yerleştirmektedir. Pelin, en alt çekmeyeceye de bir gömlek koyduğunda, en üst çekmeyeceye geri dönmektedir.



Buna göre Pelin, son gömleği hangi çekmeyeceye koymuştur?



5. Aromalı Şekerler

Biol'un beş çeşit sevdiği şeker vardır.

Biol, okula götürmek için her aromadan birer tane olmak üzere şekerleri bir tüpe koyuyor. Gün boyunca Biol, şekerleri tüpün en üstündekinden başlayarak sırayla yiyor.

Biol şekerleri şu sırayla yemek istiyor: üzüm , portakal , limon , çilek  ve yaban mersini .

Buna göre, Biol şekerleri tüpün içine hangi sıra ile yerleştirmelidir?

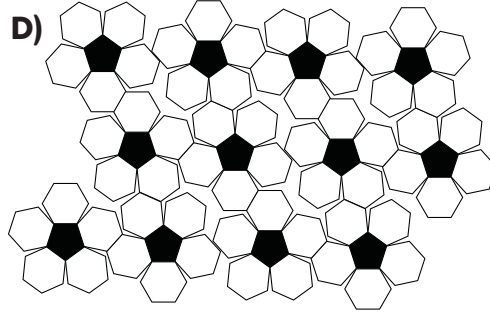
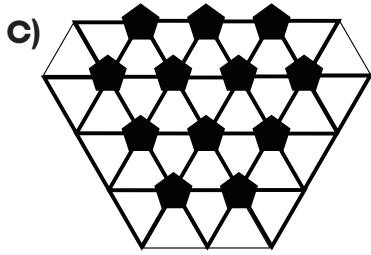
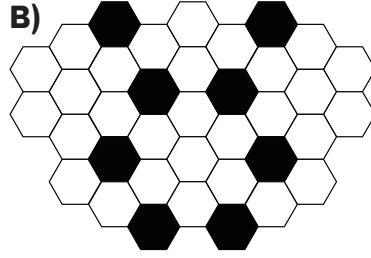
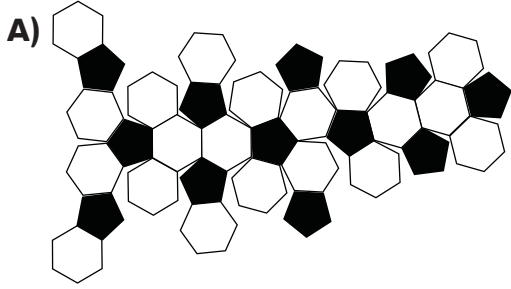


6. Futbol Topu

Bilge Kunduz klasik bir futbol topu oluşturmak istiyor.





Top için kullanılabilir dörd farklı malzeme seçeneği var.

Futbol topunu oluşturmak için aşağıdaki malzemelerden hangisi kullanılmalıdır?



7. Meyveler ve Sebzeler

Meyveler (elma ve muz) ve sebzeler (brokoli ve havuç) dört tane tabağa yerleştirilmiştir:



Ardından sırayla aşağıdaki eylemler gerçekleştirilmiştir:

1. Her tabağa bir muz eklenir.
2. Toplamda dörtten az parça içeren her tabak kaldırılmıştır.
3. Tüm meyveler dört tabaktan da kaldırılır.
4. Üzerinde sadece havuç bulunan tabaklar kaldırılır.

Tüm eylemler gerçekleştirildikten sonra kaç tabak kalır?

A) 1








B) 2


C) 3

D) 4

8. Kayak Köyü

Poyraz, Veli ve Ayşe, 5 kulübeden oluşan kayak köyünde kaybolan küçük kunduzlardır. Her biri, yaşadıkları kulübelerin bazı bölümlerini, onları bulmaya yetecek kadar hatırlamaktadır. Kunduzların hatırladığı bölümler aşağıda gösterilmiştir.

Kunduz	Pencere sayısı 	Kulübe rengi	Kapı rengi
Poyraz	4	Yeşil 	Siyah 
Veli	4	Sarı değil 	Kırmızı 
Ayşe	2	Sarı 	Mavi 

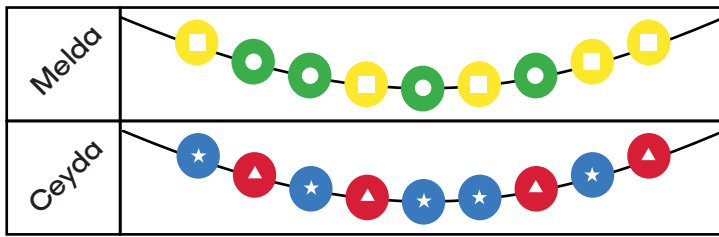


Kunduzların kulübeleri ile ilgili hatırladıkları bölümlere göre, hangi kulübe hangi kunduza aittir?

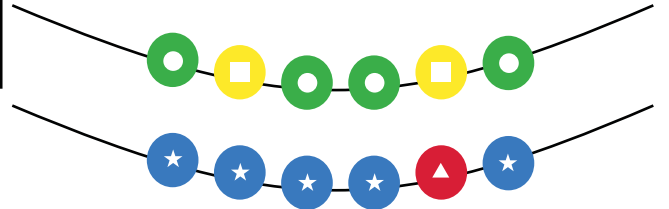
- A) Poyraz – A, Veli – C, Ayşe – D
 B) Poyraz – D, Veli – A, Ayşe – B
 C) Poyraz – D, Veli – E, Ayşe – A
 D) Poyraz – E, Veli – B, Ayşe – C

9. Kolye

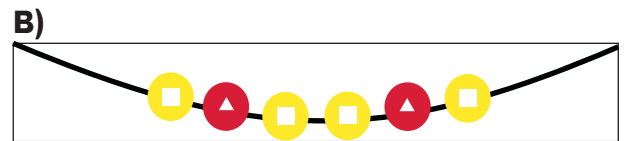
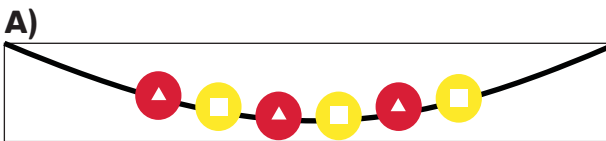
Melda ve Ceyda, gittikleri tatilde kolye almışlardır.






Arkadaşları Ayşegül için yeni bir kolye yapmak amacıyla kendi kolyelerinden toplamda 6 boncuk kullanmışlardır. Son durumda kolyeleri şu şekildedir:




Buna göre, aşağıdakilerden hangisi Ayşegül'ün kolyesidir?



10. Çiçekler

Kırmızı Başlıklı Kız, anneannesini ziyarete gidecektir. Yol üstünde sarı papatya , kırmızı gül  ve mavi lale  olmak üzere her çiçekten en az bir tane içeren bir buket yapmak istiyor.



Kırmızı Başlıklı Kız, yolda, kuzeye, güneye, doğuya ve batıya olmak üzere bir daireden başka bir daireye doğru hareket edebilir, fakat kurt ile karşılaşmamalıdır.


Aşağıdakilerden hangisi Kırmızı Başlıklı Kız'ın anneannesine ulaşabilmesi için takip etmesi gereken yoldur?

- A) Doğu – Kuzey – Doğu – Doğu – Güney – Doğu – Doğu
- B) Doğu – Kuzey – Kuzey – Doğu – Doğu – Güney – Batı – Güney – Doğu – Doğu
- C) Doğu – Güney – Doğu – Doğu – Doğu – Kuzey – Doğu
- D) Doğu – Kuzey – Kuzey – Doğu – Doğu – Güney – Batı – Batı – Güney – Güney – Doğu – Doğu – Kuzey – Doğu


11. Altın Bilet



Dört mısır değerinde bir altın bileti olan armadillo Miray ve kapıbara Can, birlikte altın bileti kullanmak için otomata giderler. Miray ve Can, altın bilete baktıklarında biletin üstündeki kodun ne anlama geldiğini bilmiyorlar.



Otomattaki tabloyu gördüklerinde kodu çözebileceklerini anlıyorlar ve bilete kodlanan harfleri bulmaya çalışıyorlar.



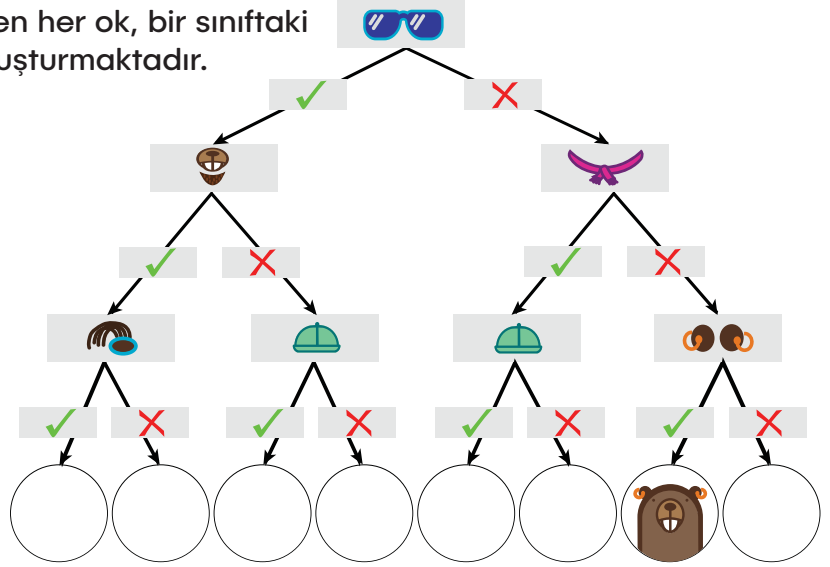
.. 0..	A	00 0..	K
.. .0.	E	00 00.	L
.. .00	I	00 .0.	M
.. 000	O	00 .00	N
.. 0.0	U	00 000	P
.. .0.0	Y	00 0.0	Q
.0 .0.0	B	00 .0.	R
.0 0.0	C	0. .0.	S
.0 000	D	0. 0.0	T
.0 .00	F	0. 000	V
.0 .0.	G	0. .00	W
.0 00.	H	0. .0.	X
.0 0..	J	0. 00.	Z

Buna göre Miray ve Can, mısırlarını almak için hangi dört harfi girmeliler?





























- A) N – S – H – W
- B) R – X – F – T
- C) S – Z – C – X
- D) R – S – D – T

12. Okul Fotoğrafı

Aşağıda verilen görselde, takip edilen her ok, bir sınıftaki öğrenci kunduzların fotoğraflarını oluşturmaktadır.



Buna göre, boş bırakılan yerlere sırasıyla hangi fotoğraflar gelmelidir?


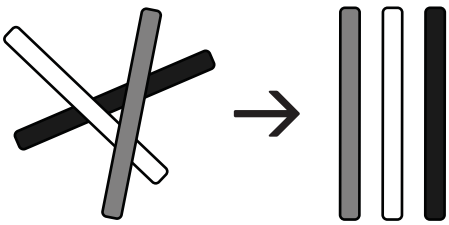
- A)  .  .  .  .  .  . 
- B)  .  .  .  .  .  . 
- C)  .  .  .  .  .  . 
- D)  .  .  .  .  .  . 

13. Oyun Çubukları

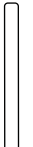


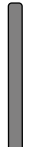




















Ayşe, çubuklarla oyun oynamaktadır. Oynadığı oyunda çubukların hepsini aynı anda masaya rastgele olarak bırakır ve aşağıdaki kurallara göre çubukları geri toplar:

- Her seferinde sadece bir çubuk alabilirsiniz.
- Bir çubuğu ancak üstünde başka bir çubuk yoksa alabilirsiniz.

Örnek olarak, 3 adet çubuğun rastgele olarak bırakılıp sonra nasıl toplandığı aşağıda gösterilmiştir:



Buna göre Ayşe, 6 tane çubuğu yukarıdaki gibi bıraktığında, çubukları hangi sırayla geri toplar?

- A)  .  .  .  .  . 
- E)  .  .  .  .  . 
- C)  .  .  .  .  . 
- D)  .  .  .  .  . 

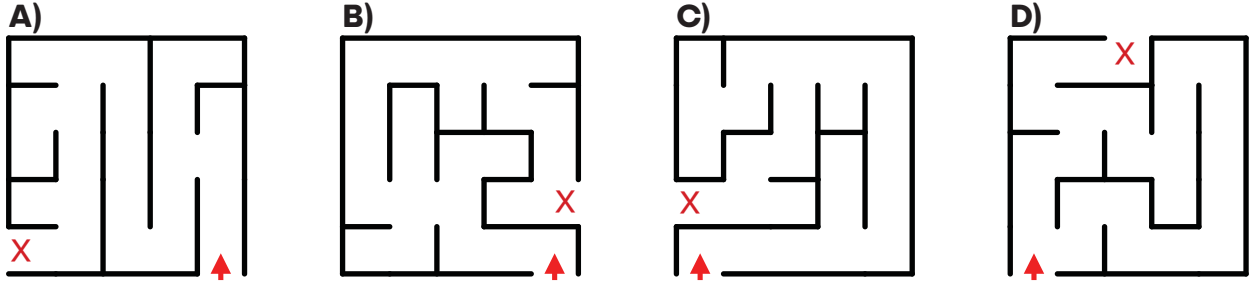
14. Labirent

Kunduz Berna, bahçe labirentlerini keşfetmekten hoşlanır, ancak her seferinde tüm labirenti geçip geçemediğini merak eder.

Bir gün "sağ el" kuralını öğrenir. Bu kural, bir labirentte yürürken, ne olursa olsun sağ elinizin her zaman duvarın sağ tarafına değmesi anlamına gelir. Sağ el kuralı, bir labirentte girdiğinizde her zaman bir çıkış bulabileceğinizi garanti eder, fakat labirentteki her yolu ziyaret edeceğinizi garanti etmez.

Aşağıda, Berna'nın labirentte nereden girdiğini gösteren bir ok ve çıkışı gösteren bir X ile dört farklı labirent verilmiştir.

Buna göre Berna, sağ el kuralını kullanarak aşağıdaki labirentlerden hangisinde her yolu ziyaret edebilir?



15. Topları Düzenlemek

Sevda'nın büyük bir sepette 3 farklı türde 9 adet topu vardır. Her top türünü ayrı sepetlere koymak isteyen Sevda, büyük sepetten topları tek tek alacak ve kendi küçük sepetlerine koyacaktır.



Yandaki görsele göre, Sevda önce hangi sepeti dolduracaktır?

